

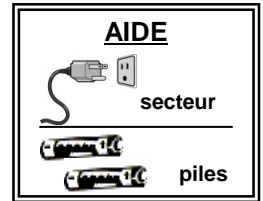
L'Électricité

Prénom :

Date :/...../..... Classe :

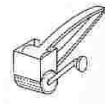
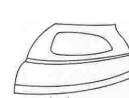
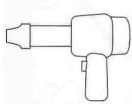


Questionnaire - cycle 2



1/ Indique si ces objets fonctionnent grâce à l'électricité, ou non.

Si oui, précise s'ils utilisent le courant du secteur (la prise de courant) ou des piles (ou batteries) :



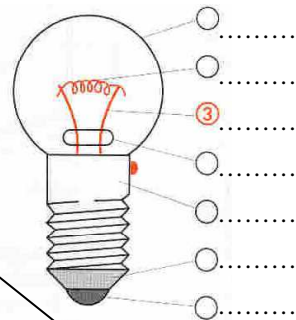
appareil électrique : oui non
 appareil électrique : oui non
 appareil électrique : oui non
 appareil électrique : oui non
 appareil électrique : oui non
 appareil électrique : oui non
 appareil électrique : oui non
 appareil électrique : oui non
 appareil électrique : oui non
 appareil électrique : oui non

Si oui, il utilise : Si oui, il utilise : Si oui, il utilise : Si oui, il utilise : Si oui, il utilise : Si oui, il utilise : Si oui, il utilise : Si oui, il utilise : Si oui, il utilise :

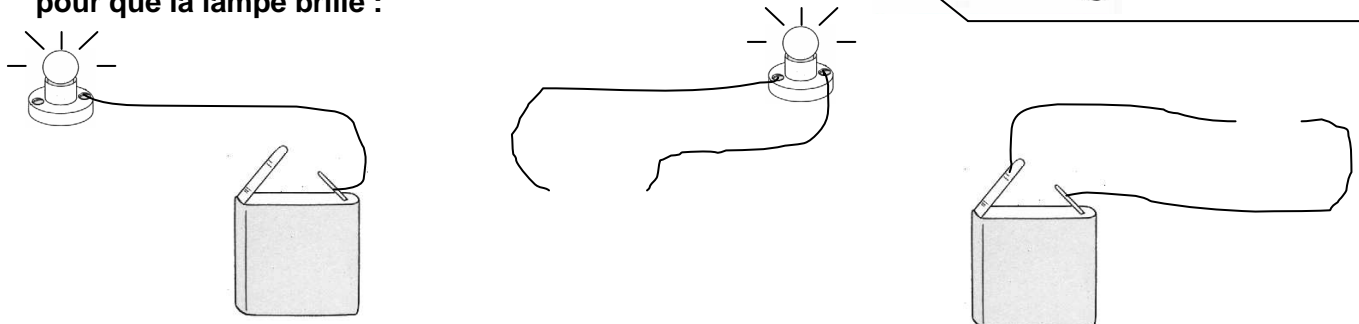
2/ Complète la légende du dessin en reportant les numéros :

Légende

- 1 – culot (vis)
- 2 – perle en verre
- 3 – supports du filament
- 4 – ampoule de verre
- 5 – filament
- 6 – plot
- 7 – isolant



3/ Dessine ce qui manque dans chaque circuit pour que la lampe brille :



4/ Tu peux voir sur l'affiche « Danger » une maison qui présente de nombreux risques liés à l'utilisation de l'électricité.

Trouve et entoure d'un trait de crayon chacun de ces dangers.

Puis, cherche, dans chaque cas, quel comportement il faut adopter pour les éviter.

