

L'Électricité

Prénom : **Corrigé**

Date :/...../..... Classe :



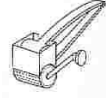
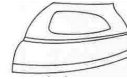
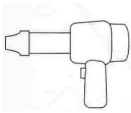
Questionnaire - cycle 2

AIDE

secteur

piles

1/ Indique si ces objets fonctionnent grâce à l'électricité, ou non.
Si oui, précise s'ils utilisent le courant du secteur (la prise de courant) ou des piles (ou batteries) :

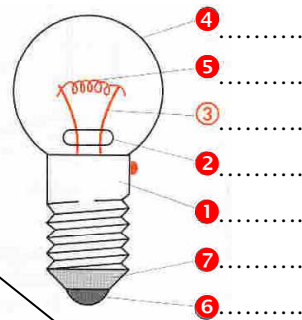


appareil électrique : oui <input checked="" type="checkbox"/> non <input type="checkbox"/>	appareil électrique : oui <input checked="" type="checkbox"/> non <input type="checkbox"/>	appareil électrique : oui <input type="checkbox"/> non <input checked="" type="checkbox"/>	appareil électrique : oui <input type="checkbox"/> non <input checked="" type="checkbox"/>	appareil électrique : oui <input checked="" type="checkbox"/> non <input type="checkbox"/>	appareil électrique : oui <input type="checkbox"/> non <input checked="" type="checkbox"/>	appareil électrique : oui <input checked="" type="checkbox"/> non <input type="checkbox"/>	appareil électrique : oui <input type="checkbox"/> non <input checked="" type="checkbox"/>	appareil électrique : oui <input checked="" type="checkbox"/> non <input type="checkbox"/>
Si oui, il utilise : secteur	Si oui, il utilise : secteur	Si oui, il utilise : ---	Si oui, il utilise : ---	Si oui, il utilise : secteur	Si oui, il utilise : ---	Si oui, il utilise : secteur	Si oui, il utilise : ---	Si oui, il utilise : piles

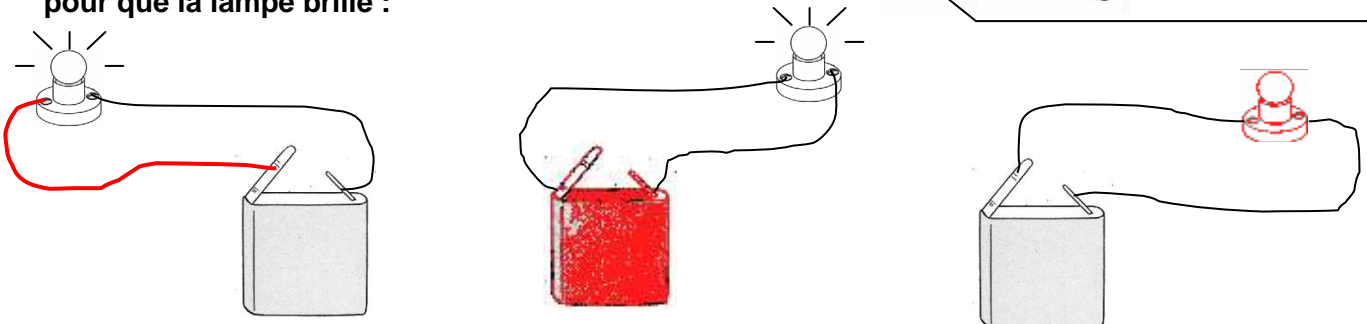
2/ Complète la légende du dessin en reportant les numéros :

Légende

- | | |
|--------------------------|--------------|
| 1 – culot (vis) | 5 – filament |
| 2 – perle en verre | 6 – plot |
| 3 – supports du filament | 7 – isolant |
| 4 – ampoule de verre | |



3/ Dessine ce qui manque dans chaque circuit pour que la lampe brille :



4/ Tu peux voir sur l'affiche « Danger » une maison qui présente de nombreux risques liés à l'utilisation de l'électricité.

Trouve et entoure d'un trait de crayon chacun de ces dangers.

Puis, cherche, dans chaque cas, quel comportement il faut adopter pour les éviter.

